



ОКРУЖАЮЩИЙ МИР. 3 КЛАСС

Урок 18. Итоговый урок по разделу «Мы и наше здоровье»

Урок Конспект Дополнительные материалы

Начнём урок

Основная часть

Тренировочные задания

Контрольные задания В1

Контрольные задания В2

Полезные привычки



Выделите зелёным цветом виды активности, которые помогают сохранить здоровье, голубым цветом – те, что вредят.

- Долго играть за компьютером
- Проводить время на свежем воздухе
- Заниматься спортом
- Делать утреннюю зарядку
- Курить
- Закаливать организм
- Полноценно и разнообразно питаться
- Голодать
- Чистить зубы два раза в день
- Есть невымытыми руками

Голубой

Зеленый

1

2

3

4

5

6

Образовательные тесты

всего
9332
тестов

Главная Скачать Статьи Контакты FAQ Соглашение Вход Регистрация

поиск по сайту

Английский язык

Предметы » Окружающий мир » 4 класс » Нервная система человека

Астрономия

Нервная система человека

Тест затрагивает основные понятия, связанные с нервной системой



Окружающий мир 4 класс | Автор: Глущиха Александра Валентиновна | ID: 9769 | Дата: 5 10 2017 +17

нашел ошибку,
нажми

Ctrl+Enter

Белорусский язык

Биология

Вопрос № 1 *Правильно*

Какой системы органов человека не существует?

- Дыхательная система
- Выделительная система
- Нервная система
- Опорно-двигательная система
- Пищевая система
- Кровеносная система

География

ИЗО

Информатика

История

Вопрос № 2 *Правильно*

Что способствует попаданию информации в головной мозг?

- Нервы
- Телевизор
- Интернет

Итальянский язык

Краеведение

Литература

Математика

Вопрос № 3 *Правильно*

Что входит в центральную нервную систему?

- головной мозг
- кровеносные сосуды
- сердце
- спинной мозг
- нервы

Музыка

Немецкий язык

ОБЖ

*мы вКонтакте
продолжайте*

Окружающий мир

ОРКСЭ

Русский язык

Технология

Физика

Физкультура

Химия

Черчение

Для учителей

Дошкольникам

VIP - доступ



Вопрос № 4 *Справильно*

Какую функцию выполняет головной мозг?

- Переваривает пищу
- Воспринимает и обрабатывает информацию, управляет органами
- Отвечает за рост волос

Вопрос № 5 *Справильно*

Сколько полушарий имеет головной мозг?

- Одно
- Два
- Три

Вопрос № 6 *Справильно*

Какую функцию выполняет спинной мозг?

- Управляет работой мышц и других органов, обеспечивает связь всех органов с головным мозгом
- Анализирует информацию, поступающую от органов чувств
- Отвечает за развитие речи

Вопрос № 7 *Справильно*

Чем вы можете помочь нервной системе, чтобы она не перенапрягалась и оставалась здоровой?

- ходить в школу
- не раздражаться
- часто бывать на свежем воздухе
- пить минеральную воду
- соблюдать режим дня
- рано вставать
- есть овощи и фрукты
- не нервничать
- проветривать помещение

Вопрос № 8 *Справильно*

Какую функцию выполняют нервы?

- Переносят в организме питательные вещества
- Защищают организм от вирусов
- Передают электрические сигналы от органов к мозгу и команды от мозга к органам

Вы набрали

8.0 баллов из **8.0** возможных

Тест пройден на **100%**



*Получение сертификата
о прохождении теста*

**Доступно только
зарегистрированным
пользователям**

Разноуровневая контрольная работа по математике за 1 четверть в 4 классе

Цель работы – проверить:

- знание таблиц единиц длины, площади, массы, времени;
- умения выполнять устно арифметические действия с многозначными числами в случаях, сводимых к вычислениям в пределах 100;
- знания и умения применять алгоритмы письменного сложения и вычитания многозначных чисел; выполнять письменно умножение и деление многозначного числа на однозначное;
- умения складывать и вычитать значения величин, выраженные в единицах не более чем двух наименований, и применять их при решении задач;
- умения решать уравнения нахождение неизвестного слагаемого, уменьшаемого, вычитаемого, множителя, делимого, делителя, в которых правая часть задана выражением;
- умения решать текстовые задачи изученных видов, в том числе задачи на увеличение (уменьшение) числа на несколько единиц, заданные в косвенной форме.

1 уровень

1. *Выполни вычисления:*

$$24\ 618 + 4\ 536$$

$$32\ 879 - 19\ 586$$

$$7\ 518 \cdot 3$$

$$32\ 568 : 6$$

2. *Вычисли, записывая вычисления в столбик:*

$$29\ \text{т}\ 350\ \text{кг} + 18\ \text{т}\ 980\ \text{кг} =$$

3. *Реши задачу.*

В первый день в санаторий приехало 900 человек, а во второй – в 9 раз меньше, чем в первый. Сколько всего человек приехало в санаторий?

4. *Реши уравнение.*

$$X - 180 = 120$$

2 уровень

1. *Выполни вычисления:*

$$42\ 731 + 23\ 895$$

$$97\ 586 - 33\ 569$$

$$32\ 746 + 5\ 825$$

$$8\ 416 \cdot 4$$

$$18\ 512 : 8$$

$$6\ 320 \cdot 5$$

2. *Вычисли, записывая вычисления в столбик:*

$$13\ \text{т}\ 640\ \text{кг} + 27\ \text{т}\ 580\ \text{кг} =$$

$$28\ \text{км}\ 640\ \text{м} - 9\ \text{км}\ 890\ \text{м} =$$

3. *Реши задачу.*

С одного участка собрали 120 кг помидоров, а с другого – в 3 раза больше. Все помидоры разложили в коробки, по 8 кг в каждую. Сколько коробок заняли помидорами?

4. *Реши уравнение.*

$$X + 60 = 16 \cdot 6$$

5. *Укажи порядок действий.*

$$a : b - c \cdot d + k - m : n$$

3 уровень

1. *Выполни вычисления:*

$$804\ 608 + 96\ 395$$

$$143\ 807 + 57\ 296$$

$$53\ 846 + 14\ 653$$

$$700\ 700 - 24\ 618$$

$$312\ 879 - 179\ 542$$

$$87\ 476 - 65\ 339$$

$$32\ 416 \cdot 4$$

$$42\ 600 \cdot 7$$

$$43\ 047 : 9$$

2. *Вычисли, записывая вычисления в столбик:*

$$17\ \text{км}\ 830\ \text{м} - 8\ \text{км}\ 540\ \text{м} =$$

$$18\ \text{т}\ 360\ \text{кг} + 16\ \text{т}\ 740\ \text{кг} =$$

$$3\ \text{ч}\ 30\ \text{мин} - 45\ \text{мин} =$$

3. *Реши задачу.*

В овощехранилище привезли 420 мешков картофеля, по 50 кг в каждом, и 360 мешков лука, по 40 кг в каждом. Каких овощей привезли больше и на сколько кг больше?

После решения данной задачи измени вопрос так, чтобы последнее действие было сложение. Запиши новое решение и ответ.

4. *Реши уравнения.*

$$90 + x = 1800 : 10$$

$$470 - b = 30 \cdot 4$$

5. *Укажи порядок действий.*

$$a : (b - c) \cdot d + k \cdot (m : n) - x$$

Дополнительные задания:

1. Восстанови пропущенные цифры:

$$\begin{array}{r} 3 \cdot 79 \\ + \cdot 6 \cdot \cdot \\ \hline \cdot 2658 \end{array}$$

$$43 \cdot \cdot$$

$$+ \cdot 6 \cdot \cdot$$

$$\hline \cdot 2658$$

$$+ \cdot \cdot 25$$

$$\hline \cdot 2194$$

2. Возраст старика Хоттабыча записывается 4-х значным числом. Об этом числе известно следующее:

а) если первую и последнюю цифру зачеркнуть, то получится двузначное число, которое при сумме цифр, равной 13, является наибольшим.

б) первая цифра больше последней в 4 раза. Сколько лет старику Хоттабычу?

Контрольная работа по математике за 2 четверть в 4 классе для детей с ОВЗ

Цель работы – проверить:

- знание таблиц единиц длины, площади, массы, времени;
- умения выполнять устно арифметические действия с многозначными числами в случаях, сводимых к вычислениям в пределах 100;
- знания и умения применять алгоритмы письменного сложения и вычитания многозначных чисел; выполнять письменно умножение и деление многозначного числа на однозначное;
- умения складывать и вычитать значения величин, выраженные в единицах не более чем двух наименований, и применять их при решении задач;
- умения решать уравнения на нахождение неизвестного слагаемого, уменьшаемого, вычитаемого, множителя, делимого, делителя, в которых правая часть задана выражением;
- умения решать текстовые задачи изученных видов, в том числе задачи на увеличение (уменьшение) числа на несколько единиц, заданные в косвенной форме.

1 уровень

1. *Выполни вычисления в столбик:*

$$24\ 318 + 4\ 532$$

$$5\ 213 \cdot 3$$

$$32\ 879 - 10\ 546$$

$$62\ 468 : 2$$

2. *Вычисли, записывая вычисления в столбик:*

$$29\ \text{т}\ 350\ \text{кг} + 11\ \text{т}\ 430\ \text{кг} =$$

3. *Реши задачу.*

В первый день в санаторий приехало 900 человек, а во второй – в 9 раз меньше, чем в первый. Сколько всего человек приехало в санаторий?

$$I - 900\ \text{ч.}$$

$$I - ?\ \text{ч.},\ \text{в } 9\ \text{раз м.} \quad ?\ \text{ч}$$

$$1) \dots : 9 = \dots\ (\text{ч}) - \text{ во второй.}$$

$$2) \dots + \dots = \dots\ (\text{ч}) - \text{ всего.}$$

Ответ:

4. *Реши уравнение.*

$$X - 180 = 120$$

$$X = \dots + \dots$$

$$\underline{X = \dots}$$

Творческие задания

Прочитай слова, проговаривая их написание. Соедини стрелками слово с соответствующими «лекарствами» доктора Грамотея.

ручьи

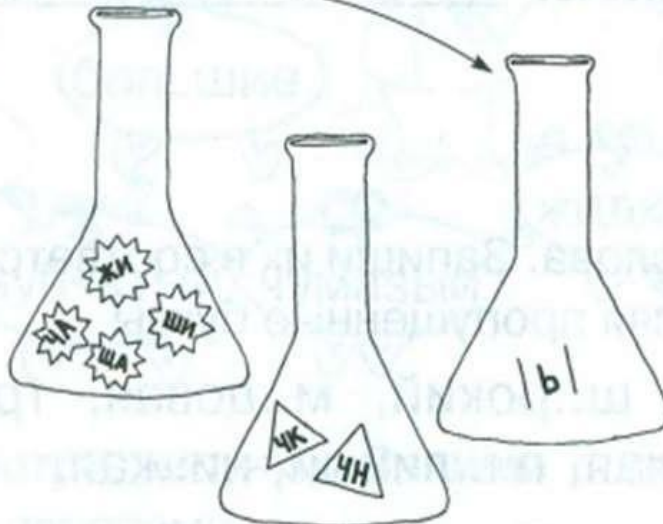
личная

лужи

часто

птичка

льёт



муравьи

малыши

привычка

шуточный

срочный

ежи

$$\text{Tree} + \text{Snowman} + \text{Tree} = 17$$

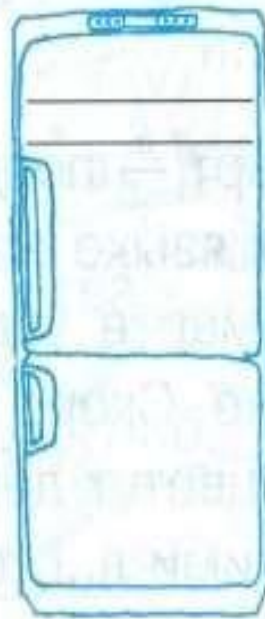
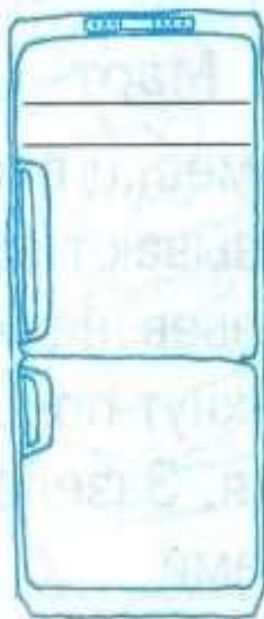
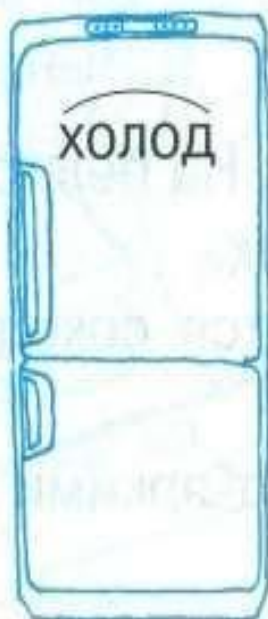
$$\text{Deer} + \text{Deer} + \text{Snowflake} = 12$$

$$\text{Deer} = \text{Snowflake}$$

$$\text{Deer} - 3 = \text{Snowman}$$

$$\text{Tree} = ?$$

Рассмотри рисунки. Подбери и запиши однокоренные слова. Выдели корень.



ЧАСТИ РЕЧИ

ИМЯ СУЩЕСТВИТЕЛЬНОЕ

Имя существительное — часть речи, которая обозначает предмет и отвечает на вопросы **кто? что?**



**МУНИЦИПАЛЬНОЕ БЮДЖЕТНОЕ ОБЩЕОБРАЗОВАТЕЛЬНОЕ
УЧРЕЖДЕНИЕ СРЕДНЯЯ ОБЩЕОБРАЗОВАТЕЛЬНАЯ ШКОЛА № 13**

П Р И К А З

«10» 01 2017

№12-ш13-13-1/17

г. Сургут

Об итогах проверки соблюдения
классными руководителями и педагогами
единых требований при ведении журналов

На основании приказа от 19.11.2016г. № 731 «О проведении проверки классных журналов, журналов ГПД, внеурочной деятельности», информационно – аналитической справки Кудряковой Л.А., Гольшевой О.Ю., Церабаевой С.В., заместителей директора по учебно-воспитательной работе,
ПРИКАЗЫВАЮ:

1. Признать соблюдение единых требований при ведении журналов классными руководителями 1 - 11 классов и учителями – предметниками соответствующим Инструкции по ведению классного журнала, утверждённой от 27.08.2014г.; указаниям к ведению классного журнала в I – IV, V – IX, X – XI классах образовательных учреждений у педагогов: Гольшевой О.Ю., Мазуровой С.Ф., Церабаевой С.В., Шафиковой Р.Р., Поповой Ю.А., Паздниковой А.В., Гордеевой А.Н., Симкиной Л.А., Мальгиной Г.В., Зеленской Л.А., Матийчук Ю.А., Роговой М.Г., Финадеевой О.Н., Литвиненко Т.В., Дементьева И.Я., Сальниковой В.П., Телендий В.Н., Пуртовой О.М., Горобец Е.Е., Петровой Л.В., Невской С.В., Тухтубаевой Э.А., Снетковой Н.Г., Кулашкиной А.Н., Прутян И.В., Смородиновой О.С., Никоноровой Т.А., Бродниковой О.В., Крамеровой И.Г., Кудряковой Л.А., Гавриличевой О.В., Ахметовой Р.Ф.

2. Указать:

2.1. на несвоевременное заполнение классного журнала классными руководителями, учителям-предметникам: Ситниковой Е.А., Шостиной М.В., Птицыной А.Г., Аюповой В.Г., Шуплецову И.Г., Колпакову А.А., Вакиловой Г.А., Тарасову А.А., Мусаевой Г.З., Туляковой В.В., Бондаревой Т.В., Тараненко Г.Р., Кравцову В.А., Коллеровой И.В., Афанасовой Е.С.;

2.2. на несоблюдение пунктов инструкции по ведению классного журнала - исправления, подтирания классными руководителями, учителям-предметникам: Дудниковой И.Ф., Упаковой В.А., Зыковой В.Н., Тараненко Г.Р., Петровой Е.В., Агаджанян А.С., Ананьевой М.А., Лапиной Л.А.

3. Провести Кудряковой Л.А., Гольшевой О.Ю., заместителям директора по учебно – воспитательной работе, 16.01.17г. внеплановый инструктаж по ведению и заполнению классных журналов с Агаджанян А.С., Птицыной А.Г.,


учителями начальных классов; Петровой Е.В., учителем информатики; Дудниковой И.Ф., учителем русского языка и литературы; Шостиной М.В., учителем истории и обществознания.

4. Довести до сведения педагогического коллектива информацию о результатах проверки журналов на производственном совещании 16.01.2017г.

5. Устранить указанные в справке недочёты и замечания в срок до 17.01.2017г.

6. Контроль исполнения приказа оставляю за собой.

Директор



Л.А. Юрченко

Русский язык → Все отметки
Обновить даты Отметки Д/З на сегодня Задать Д/З

Чтобы внести отметки в журнал, кликните мышкой в нужную клетку или нажмите кнопку «Отметки»
 Вы можете [выделить отметки, просмотренные родителями](#)

15	18	19	21	22	25	26	28	29	3	5	6	12	13	16	17	18	19	20	23	24	26	27	30	Средняя	IV	Годовая	
		КР	ПРА		Д/З				3	3	Н	3		3	2	3		3	3		4	3	3	Н	3.15	3	3
						3	3		4		4		2	Н	3	3	3		3		3		Н	3.04	3	3	
									3	2	3	3		3		4	2	3		3		4	4	2.96	3	3	
5	5	5	5	Н					5	5	5	5	5	5	Н	Н	Н	Н	Н	Н	5	5	Н	4.70	5	5	



← Задания



СОЗДАТЬ ЗАДАНИЕ



СОЗДАННЫЕ 0



ЗАВЕРШЕННЫЕ 36

Класс	Название и предмет	Статус	Срок выполнения	
3 «Д» 25 учеников	Задание №1 Математика	✓ Завершено	26.04.2022 - 30.04.2022	
3 «Д» 3 ученика	Задание №2 Математика	✓ Завершено	26.04.2022 - 30.04.2022	
3 «Д» 1 ученик	Задание №3 Математика	✓ Завершено	26.04.2022 - 30.04.2022	
3 «Д»	Задание №1	✓ Завершено	26.04.2022 - 30.04.2022	