




Итоговая контрольная работа по истории 6 класс. Демоверсия.

ИНСТРУКЦИЯ

Работа состоит из 8 задания. Задания №1, 2 и 6 предполагают краткий ответ. В них ответом служат слова, словосочетания, буквы или цифры. За 1-е задание максимум можно получить 2 балла при условии, что в ответе указана верная последовательность цифр. Правильное выполнение заданий №2 и 6 оценивается в 1 балл каждое. На задания №3, 4, 6 и 8 нужно ответить развернуто, а на №5 – сделать отметки на контурной карте. Они оцениваются в зависимости от правильности и полноты ответов. Так, за 3-е, 4-е и 8-е задания максимально можно получить по 3 балла, за 7-е – 2 балла, а за 5-е – 1 балл. Таким образом, максимальный первичный балл за эту проверочную работу – 16. Перевод первичных баллов в привычные оценки следует в соответствии со шкалой:

- от 0 до 3 баллов – оценка «2»;
- от 4 до 8 баллов – оценка «3»;
- от 9 до 12 баллов – оценка «4»;
- от 13 до 16 баллов – оценка «5».

Задание 1. Каждая из иллюстраций, приведённых ниже, относится к одному из указанных в перечне событий (процессов). Установите соответствие между событиями (процессами) и иллюстрациями: к каждому событию (процессу) подберите по одной иллюстрации.

1	2	3	4
			

2. Прочтите отрывок из исторического источника и определите, к какому из данных событий (процессов) он относится. В ответе напишите букву, которой обозначено это событие (процесс). «Он был первым среди русских князей XIV века, кто открыто стал на службу хану, взяв на себя не только сбор денег с покорённого русского населения, но и осуществление карательных мер против него в случае антиордынских восстаний, как это было в Твери в 1327 г. ...В результате князь стал великим князем владимирским, сумел превратить Московское княжество в одно из самых богатых на Руси».

Перечень событий (процессов)	
А) Правление Ивана Калиты	Б) битва на реке Калке
В) первый созыв Генеральных штатов во Франции	Г) съезд князей в Любече

Ответ: _____

3. С каким из данных событий (процессов) связано слово «усобица»? Запишите букву, которой обозначено данное событие (процесс).

Объясните смысл слова «усобица».

Перечень событий (процессов)	
А) Правление Ивана Калиты	Б) битва на реке Калке
В) первый созыв Генеральных штатов во Франции	Г) съезд князей в Любече

4. Выберите одно событие (процесс) из перечня, а затем выполните задания 4–7, рассматривая в каждом из заданий выбранное событие (процесс). В заданиях 4–7 буквы должны быть одинаковыми. Укажите две исторические личности, непосредственно связанные с выбранным Вами событием (процессом).

Укажите одно любое действие каждой из этих личностей, в значительной степени повлиявшее на ход и (или) результат этого события (процесса).

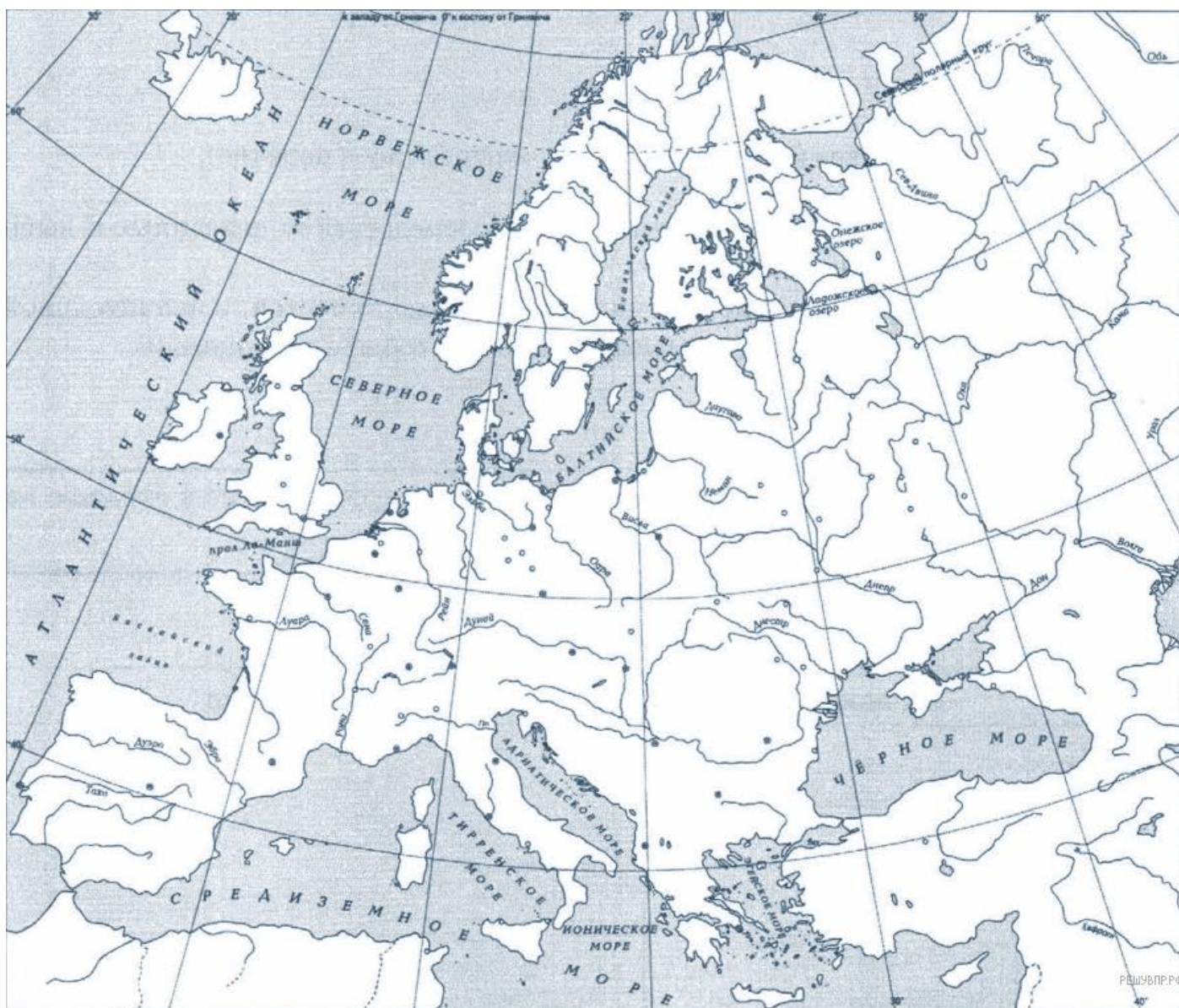
Ответ запишите в таблицу.

Не следует указывать исторические личности, упомянутые в отрывке из исторического источника в задании 2.

Личности	Действия
1.	
2.	

Перечень событий (процессов)	
А) Правление Ивана Калиты	Б) битва на реке Калке
В) первый созыв Генеральных штатов во Франции	Г) съезд князей в Любече

5. Заштрихуйте на контурной карте один четырёхугольник, образованный градусной сеткой, в котором полностью или частично происходило выбранное Вами событие (процесс).



Перечень событий (процессов)

А) Правление Ивана Калиты	Б) битва на реке Калке
В) первый созыв Генеральных штатов во Франции	Г) съезд князей в Любече

6. На каких двух изображениях представлены памятниками культуры России, а на каких — памятники культуры зарубежных стран? Запишите в таблицу порядковые номера соответствующих изображений.

Памятники культуры России	Памятники культуры зарубежных стран

Рассмотрите изображения памятников культуры и выполните задания 6,7.



1.



2.



3.



4.

7. Какие из перечисленных памятников культуры созданы в в XII в.? Выберите два памятника культуры и запишите в таблицу цифры, под которыми они указаны.

- 1) «Слово о полку Игореве»
- 2) церковь Фёдора Стратилата на Ручью в Новгороде
- 3) «Повесть временных лет»
- 4) «Повесть о житии Александра Невского»
- 5) «Повесть о разорении Рязани Батыем»

8. Рассмотрите изображение и выполните задание.



Укажите год, когда произошла стратегическая операция РККА, которой посвящён памятник. Почему события, которым посвящен памятник до сих пор имеют большое значение для всех граждан России?

