

Проверочная работа
по предмету «ОКРУЖАЮЩИЙ МИР»
4 класс

Вариант 1

Инструкция по выполнению работы

На выполнение работы по предмету «Окружающий мир» даётся 45 минут. Работа состоит из двух частей и включает в себя 10 заданий.

Ответы на задания запиши в поле ответа в тексте работы.

При выполнении работы не разрешается пользоваться учебником, рабочими тетрадями и другим справочным материалом.

Советуем выполнять задания в том порядке, в котором они даны. Для экономии времени пропускай задание, которое не удаётся выполнить сразу, и переходи к следующему. Постарайся выполнить как можно больше заданий.

Желаем успеха!

Часть 1

1

Рассмотри рисунок, на котором изображена детская площадка. Детские игрушки могут быть изготовлены из пластмассы. Они отмечены на рисунке стрелкой с соответствующей надписью.

Покажи на рисунке стрелкой любой предмет (любую деталь) из металла и любой предмет (любую деталь) из дерева. Подпиши название соответствующего материала рядом с каждой стрелкой.



2

На интернет-сайтах погоды можно встретить подобные таблицы. Изучи прогноз погоды на трое суток.

	Среда, 9 августа				Четверг, 10 августа				Пятница, 11 августа			
	Ночь	Утро	День	Вечер	Ночь	Утро	День	Вечер	Ночь	Утро	День	Вечер
Облачность и атмосферные осадки												
Температура воздуха, °С	23	25	27	23	20	28	31	25	20	23	28	25
Направление ветра												
	Ю	Ю	ЮВ	Ю	ЮВ	ЮВ	ЮЗ	ЮЗ	З	Ю	ЮВ	Ю
Влажность воздуха, %	69	61	57	65	61	58	60	63	63	60	56	55

Выбери все верные утверждения об ожидаемой погоде на эти трое суток и запиши в строку ответа их номера.

- 1) В среду в течение суток ветер будет постоянно менять своё направление.
- 2) В четверг вечером ожидается дождь.
- 3) В ночь с четверга на пятницу влажность воздуха не изменится.
- 4) В течение всех трёх суток температура воздуха не превысит 25 °С.

Ответ: _____

3) Рассмотрни карту России. На ней буквами А и Б отмечены две природные зоны.



3.1. Запиши название каждой природной зоны в отведённое для этого поле.

Название природной зоны (А): _____ Название природной зоны (Б): _____



3.2. На следующей странице представлены фотографии дрофы, глухаря, елей и тюльпанов. Запиши название каждого из этих животных и растений рядом с номером фотографии, на которой оно изображено.

1) _____ 2) _____

3) _____ 4) _____



3.3. Какие из этих животных обитают и какие растения произрастают в естественной среде (не в зоопарке и не в ботаническом саду) на территории природной зоны А, а какие – природной зоны Б? Запиши **номера** фотографий с изображением этих животных и растений в таблицу под соответствующими буквами.

Ответ:

Природная зона	А	Б
Животные и растения		





1)



2)

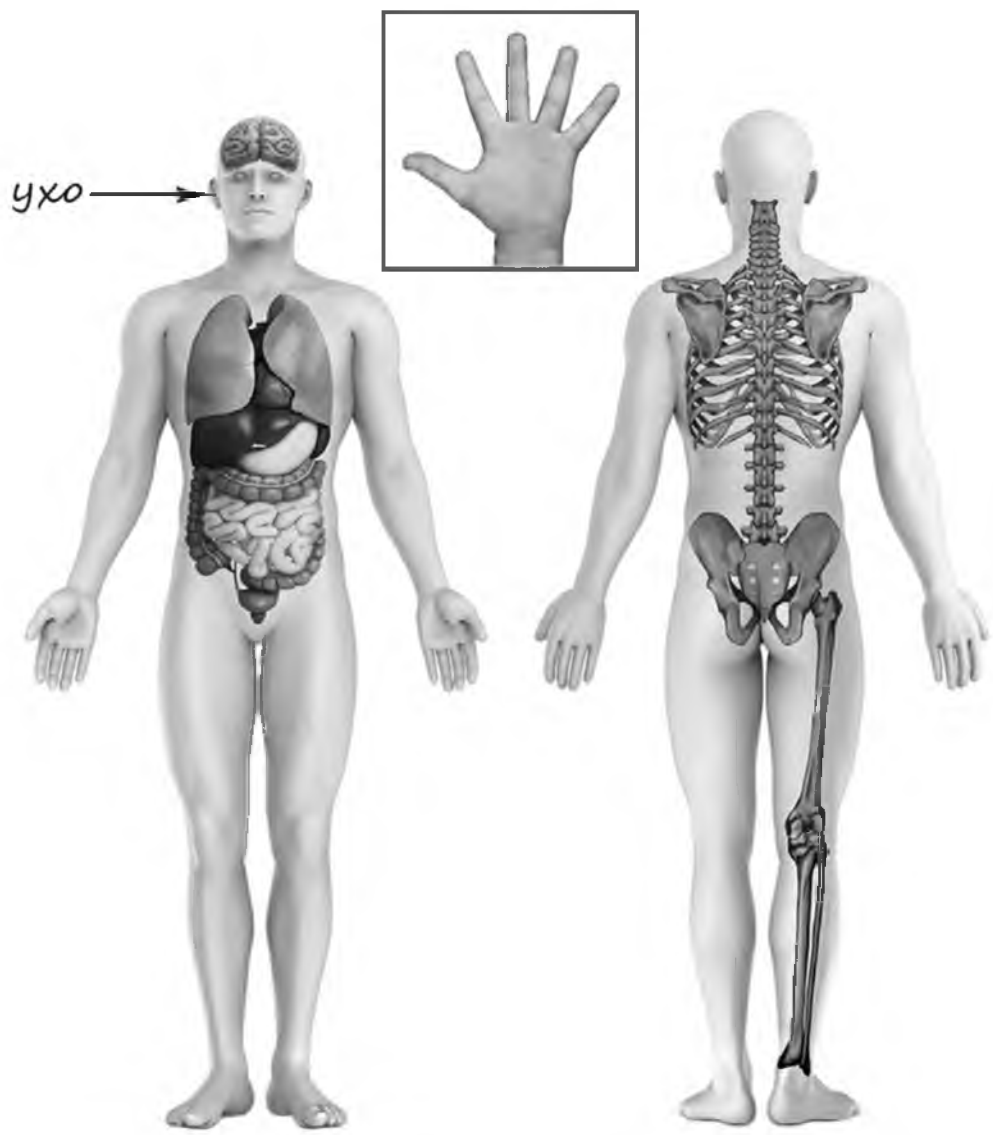


3)



4)

4) Рассмотрите изображение человека. Покажите стрелками и подпишите *икру*, *печень* и *безымянный палец* человека так, как показано на примере.



5

Если правильно подобрать к началу каждой фразы из первого столбца продолжение фразы из второго столбца, то получится правило, помогающее человеку сохранить здоровье и жизнь. Составь два правила из приведённых частей фраз: для этого к каждой позиции первого столбца подбери соответствующую позицию из второго столбца.

Начало фразы

- А) Чтобы избежать травм при падении различных предметов во время сильного ветра,
 Б) Чтобы сохранить ноги в сухости, выходя на улицу в холодную сырую погоду,

Продолжение фразы

- 1) надень тёплую одежду.
 2) надень непромокаемую обувь.
 3) старайся находиться в местах, защищённых крышей.

Запиши в таблицу выбранные цифры под соответствующими буквами.

□
 Ответ:

Начало фразы	А	Б
Продолжение фразы		

6

Степан решил провести опыт с таянием льда. Он достал из морозильника одинаковые кусочки льда, приготовленные с помощью специальной формы, и положил несколько кусочков в кастрюлю с холодной водой и столько же кусочков в кастрюлю с таким же количеством горячей воды. Через некоторое время лёд в горячей воде растаял. Позже растаял лёд в холодной воде.

6.1. Сравни условия таяния льда в разных кастрюлях в описанном опыте. Подчеркни в каждой строке одно из выделенных слов.

Количество кусочков льда:

одинаковое / различное

Количество воды в кастрюлях:

одинаковое / различное

Температура воды в кастрюлях:

одинаковая / различная

6.2. По результатам опыта сделай вывод о том, как влияет температура воды на скорость таяния льда, погружённого в эту воду.

Ответ: _____

6.3. Если бы Степан хотел выяснить, зависит ли скорость таяния льда, погружённого в воду, от количества этой воды, с помощью какого опыта он мог бы это сделать? Опиши этот опыт.


Ответ: _____

Часть 2

При выполнении заданий 7–10 последовательно отвечай на каждый из представленных вопросов. Ответы записывай чётко и разборчиво, соблюдая нормы речи.

7

Рассмотри знаки, изображённые на рисунках, и ответь на вопросы.



7.1. Какой из этих знаков относится к правилам дорожного движения?

Ответ.

Какое правило отражает этот знак?

Ответ: _____

7.2. Какие правила отражают два других знака? Запиши ответы в таблицу.

ЗНАК	ПРАВИЛО

8 На фотографиях изображены средства транспорта, на которых работают представители одной профессии.

Представители какой профессии работают на средствах транспорта, изображённых на фотографиях? Какую работу выполняют люди этой профессии? Чем работа людей этой профессии полезна обществу?



Ответ: _____

9

6 июня в нашей стране отмечают Пушкинский день России.



Обведи эту дату в календаре.

2020

Январь							Февраль							Март							Апрель									
ПН	ВТ	СР	ЧТ	ПТ	СБ	ВС	ПН	ВТ	СР	ЧТ	ПТ	СБ	ВС	ПН	ВТ	СР	ЧТ	ПТ	СБ	ВС	ПН	ВТ	СР	ЧТ	ПТ	СБ	ВС			
		1	2	3	4	5	3	4	5	6	7	8	9	2	3	4	5	6	7	8	6	7	8	9	10	11	12			
6	7	8	9	10	11	12	10	11	12	13	14	15	16	9	10	11	12	13	14	15	13	14	15	16	17	18	19			
13	14	15	16	17	18	19	17	18	19	20	21	22	23	16	17	18	19	20	21	22	20	21	22	23	24	25	26			
20	21	22	23	24	25	26	24	25	26	27	28	29	23	24	25	26	27	28	29	27	28	29	30							
27	28	29	30	31									30	31																

Май							Июнь							Июль							Август							
ПН	ВТ	СР	ЧТ	ПТ	СБ	ВС	ПН	ВТ	СР	ЧТ	ПТ	СБ	ВС	ПН	ВТ	СР	ЧТ	ПТ	СБ	ВС	ПН	ВТ	СР	ЧТ	ПТ	СБ	ВС	
				1	2	3	1	2	3	4	5	6	7	6	7	8	9	10	11	12	3	4	5	6	7	8	9	
4	5	6	7	8	9	10	8	9	10	11	12	13	14	13	14	15	16	17	18	19	10	11	12	13	14	15	16	
11	12	13	14	15	16	17	15	16	17	18	19	20	21	20	21	22	23	24	25	26	17	18	19	20	21	22	23	
18	19	20	21	22	23	24	22	23	24	25	26	27	28	27	28	29	30	31	24	25	26	27	28	29	30			
25	26	27	28	29	30	31	29	30						31														

Сентябрь							Октябрь							Ноябрь							Декабрь								
ПН	ВТ	СР	ЧТ	ПТ	СБ	ВС	ПН	ВТ	СР	ЧТ	ПТ	СБ	ВС	ПН	ВТ	СР	ЧТ	ПТ	СБ	ВС	ПН	ВТ	СР	ЧТ	ПТ	СБ	ВС		
		1	2	3	4	5	6				1	2	3	4							1			1	2	3	4	5	6
7	8	9	10	11	12	13	5	6	7	8	9	10	11	2	3	4	5	6	7	8	7	8	9	10	11	12	13		
14	15	16	17	18	19	20	12	13	14	15	16	17	18	9	10	11	12	13	14	15	14	15	16	17	18	19	20		
21	22	23	24	25	26	27	19	20	21	22	23	24	25	16	17	18	19	20	21	22	21	22	23	24	25	26	27		
28	29	30	26	27	28	29	30	31	23	24	25	26	27	28	29	28	29	30	31										

Запиши, на какой день недели приходится эта дата в 2020 году.



Ответ: _____

С чем связана эта дата? Почему этот день важен для жителей России? (Напиши ответ объёмом до пяти предложений.)



Ответ: _____

10

10.1. Запиши название региона: республики, или области, или края, или города, или автономного округа, в котором ты живёшь.

Ответ: _____

Как называется главный город твоего региона?



Ответ: _____

10.2. Каких сельскохозяйственных животных разводят в твоём регионе?

Ответ: _____

Какие растения встречаются в природе твоего региона (укажи не менее трёх растений)? Опиши одно из этих растений. Как это растение используется людьми?

Ответ: _____



Проверочная работа
по предмету «ОКРУЖАЮЩИЙ МИР»
4 класс

Вариант 2

Инструкция по выполнению работы

На выполнение работы по предмету «Окружающий мир» даётся 45 минут. Работа состоит из двух частей и включает в себя 10 заданий.

Ответы на задания запиши в поле ответа в тексте работы.

При выполнении работы не разрешается пользоваться учебником, рабочими тетрадями и другим справочным материалом.

Советуем выполнять задания в том порядке, в котором они даны. Для экономии времени пропускай задание, которое не удаётся выполнить сразу, и переходи к следующему. Постарайся выполнить как можно больше заданий.

Желаем успеха!

Часть 1

1

Рассмотри рисунок, на котором изображена комната. Внутренняя часть окна может быть изготовлена из стекла. Она отмечена на рисунке стрелкой с соответствующей надписью.

Покажи на рисунке стрелкой любой предмет (любую деталь) из металла и любой предмет (любую деталь) из бумаги. Подпиши название соответствующего материала рядом с каждой стрелкой.



2

На интернет-сайтах погоды можно встретить подобные таблицы. Внимательно изучи прогноз погоды на трое суток.

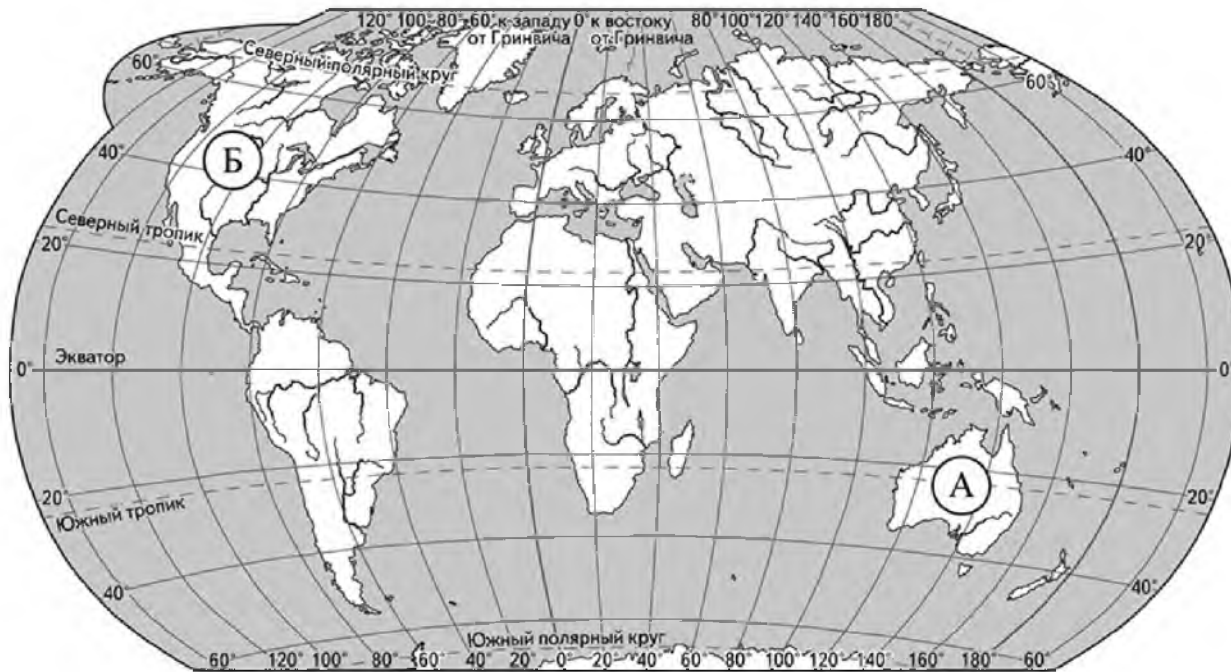
	Воскресенье, 31 декабря				Понедельник, 1 января				Вторник, 2 января			
	Ночь	Утро	День	Вечер	Ночь	Утро	День	Вечер	Ночь	Утро	День	Вечер
Облачность и атмосферные осадки												
Температура воздуха, °С	-15	-14	-8	-12	-18	-16	-14	-16	-20	-18	-17	-19
Ветер												
	С	СВ	В	В	В	В	В	В	В	СЗ	С	С
Влажность воздуха, %	75	73	73	73	69	70	68	74	65	70	71	76

Выбери верные утверждения об ожидаемой погоде на эти трое суток и запиши в строку ответа их номера.

- 1) В воскресенье днём ожидается снег.
- 2) Наиболее холодным из трёх суток будет понедельник.
- 3) В понедельник ожидается восточный ветер.
- 4) На протяжении трёх суток влажность воздуха будет постепенно снижаться.

Ответ: _____

3) Рассмотрни карту мира. На ней буквами А и Б отмечены два материка.



3.1. Запиши название каждого материка в отведённое для этого поле.

Название материка (А):

Название материка (Б):

3.2. На следующей странице представлены фотографии *утконоса*, *кенгуру*, *койота* и *скунса*. Запиши название каждого из этих животных рядом с номером фотографии, на которой оно изображено.

1) _____ 2) _____

3) _____ 4) _____

3.3. Какие из этих животных обитают в естественной среде (не в зоопарке) на материке А, а какие – на материке Б? Запиши в таблицу **номера** фотографий с изображением этих животных.

Ответ:

Материк	А	Б
Животные		



1)



2)



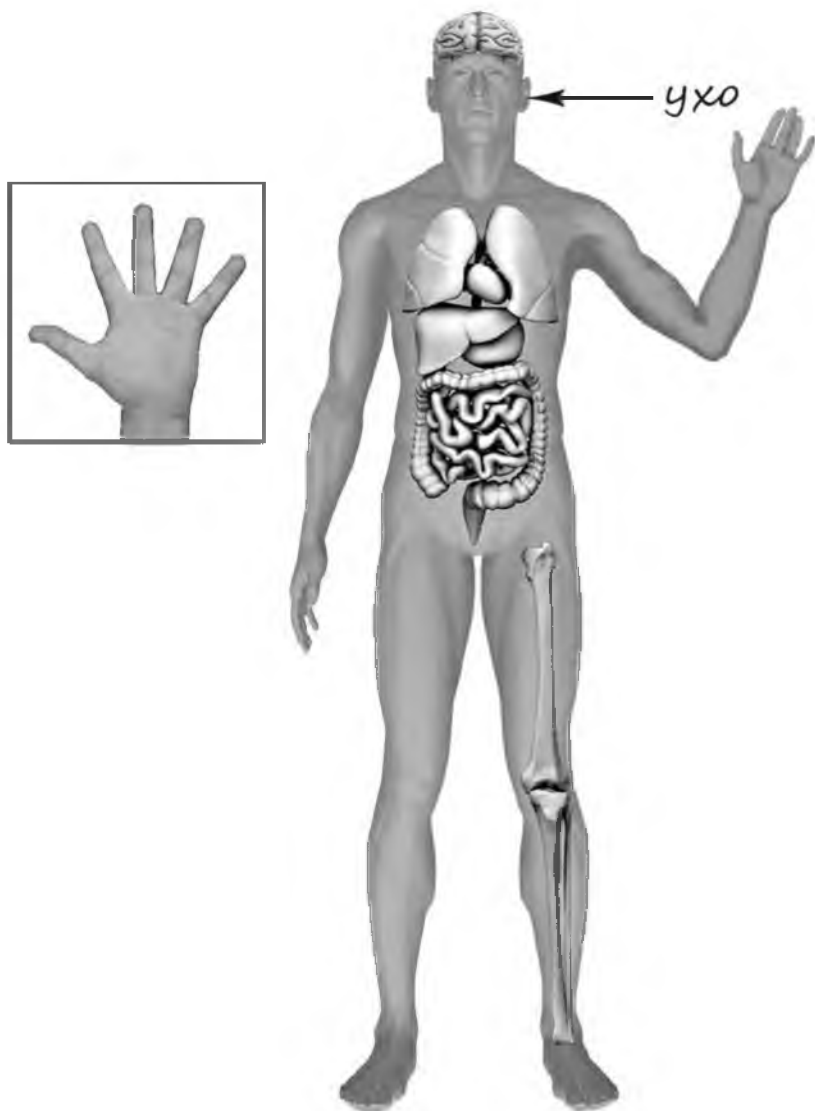
3)



4)

4

Рассмотри изображение человека. Покажи стрелками и подпиши *головной мозг*, *колено* и *средний палец* человека так, как показано на примере.



5

Если правильно подобрать к началу каждой фразы из первого столбца продолжение фразы из второго столбца, то получится правило, помогающее человеку сохранить здоровье и жизнь. Составь два правила из приведённых частей фраз: для этого к каждой позиции первого столбца подбери соответствующую позицию из второго столбца.

Начало фразы**Продолжение фразы**

А) Чтобы избежать кишечной инфекции,

1) мой руки перед едой.

Б) Чтобы укреплять здоровье и развивать силу мышц,

2) регулярно занимайся физкультурой.

3) надень головной убор.

Запиши в таблицу выбранные цифры под соответствующими буквами.

Ответ:

Начало фразы	А	Б
Продолжение фразы		

6

В жаркий солнечный день Алёна решила провести опыт с испарением воды. Она взяла две одинаковые по форме ёмкости – металлические кастрюли, налила в них одинаковое количество тёплой воды одинаковой температуры и поставила одну кастрюлю на освещённое солнцем место, а другую в прохладное тенистое место. Через некоторое время Алёна заметила, что в кастрюле, находящейся на солнце, воды осталось меньше, чем в кастрюле, находящейся в тени.

6.1. Сравни условия испарения воды в ёмкостях в описанном опыте. Подчеркни в каждой строке одно из выделенных слов.

Форма ёмкостей:

одинаковая / различная

Исходное количество воды в ёмкостях:

одинаковое / различное

Температура окружающего воздуха:

одинаковая / различная

6.2. Сделай вывод о том, как влияет температура окружающего воздуха на скорость испарения воды.

Ответ: _____

6.3. Если бы Алёна захотела выяснить, влияет ли исходная температура воды на скорость её испарения, с помощью какого опыта она могла бы это сделать? Опиши этот опыт.

Ответ: _____

Часть 2

При выполнении заданий 7–10 последовательно отвечай на каждый из представленных вопросов. Ответы записывай чётко и разборчиво, соблюдая нормы речи.

7

Рассмотри знаки, изображённые на рисунках, и ответь на вопросы.

А



Б



В



7.1. Какой из этих знаков относится к знакам безопасности на воде?

Ответ.

Какое правило отражает этот знак?

Ответ: _____

7.2. Какие правила отражают два других знака? Запиши ответы в таблицу.

ЗНАК	ПРАВИЛО

8

На фотографиях изображены предметы, с которыми работают представители определённых профессий.

Выбери одну из фотографий и запиши букву, под которой она приведена. Представители какой профессии работают с изображённым(-и) на выбранной фотографии предметом(-ами)? Если ты знаешь много профессий, представители которых работают с выбранным(-и) тобой предметом(-ами), назови любую из них. Какую работу выполняют люди этой профессии? Чем работа людей этой профессии полезна обществу?

А)



Б)



В)



Выбранная фотография:

Ответ: _____

9

21 марта в мире отмечается Международный день лесов.



Обведи эту дату в календаре.

2020

Январь							Февраль							Март							Апрель						
ПН	ВТ	СР	ЧТ	ПТ	СБ	ВС	ПН	ВТ	СР	ЧТ	ПТ	СБ	ВС	ПН	ВТ	СР	ЧТ	ПТ	СБ	ВС	ПН	ВТ	СР	ЧТ	ПТ	СБ	ВС
		1	2	3	4	5						1	2							1			1	2	3	4	5
6	7	8	9	10	11	12	3	4	5	6	7	8	9	2	3	4	5	6	7	8	6	7	8	9	10	11	12
13	14	15	16	17	18	19	10	11	12	13	14	15	16	9	10	11	12	13	14	15	13	14	15	16	17	18	19
20	21	22	23	24	25	26	17	18	19	20	21	22	23	16	17	18	19	20	21	22	20	21	22	23	24	25	26
27	28	29	30	31			24	25	26	27	28	29	23	24	25	26	27	28	29	27	28	29	30				
													30	31													

Май							Июнь							Июль							Август						
ПН	ВТ	СР	ЧТ	ПТ	СБ	ВС	ПН	ВТ	СР	ЧТ	ПТ	СБ	ВС	ПН	ВТ	СР	ЧТ	ПТ	СБ	ВС	ПН	ВТ	СР	ЧТ	ПТ	СБ	ВС
				1	2	3	1	2	3	4	5	6	7			1	2	3	4	5						1	2
4	5	6	7	8	9	10	8	9	10	11	12	13	14	6	7	8	9	10	11	12	3	4	5	6	7	8	9
11	12	13	14	15	16	17	15	16	17	18	19	20	21	13	14	15	16	17	18	19	10	11	12	13	14	15	16
18	19	20	21	22	23	24	22	23	24	25	26	27	28	20	21	22	23	24	25	26	17	18	19	20	21	22	23
25	26	27	28	29	30	31	29	30						27	28	29	30	31			24	25	26	27	28	29	30
																				31							

Сентябрь							Октябрь							Ноябрь							Декабрь								
ПН	ВТ	СР	ЧТ	ПТ	СБ	ВС	ПН	ВТ	СР	ЧТ	ПТ	СБ	ВС	ПН	ВТ	СР	ЧТ	ПТ	СБ	ВС	ПН	ВТ	СР	ЧТ	ПТ	СБ	ВС		
		1	2	3	4	5	6				1	2	3	4							1			1	2	3	4	5	6
7	8	9	10	11	12	13	5	6	7	8	9	10	11	2	3	4	5	6	7	8	7	8	9	10	11	12	13		
14	15	16	17	18	19	20	12	13	14	15	16	17	18	9	10	11	12	13	14	15	14	15	16	17	18	19	20		
21	22	23	24	25	26	27	19	20	21	22	23	24	25	16	17	18	19	20	21	22	21	22	23	24	25	26	27		
28	29	30					26	27	28	29	30	31	23	24	25	26	27	28	29	28	29	30	31						
													30																

Запиши, на какой день недели приходится эта дата в 2020 году.



Ответ: _____

Как ты думаешь, почему важно, чтобы государство уделяло большое внимание охране лесов? (Напиши ответ объёмом до пяти предложений).



Ответ: _____

10

10.1. Запиши название региона: республики, или области, или края, или города, или автономного округа, в котором ты живёшь.

Ответ: _____

Как называется главный город твоего региона?



Ответ: _____

10.2. В какой природной зоне расположен твой регион?

Ответ: _____

Какие известные люди живут или жили в твоём регионе (укажи не менее двух известных людей)? Напиши об одном из известных твоих земляков. Чем он прославил свой регион?

Ответ: _____

